

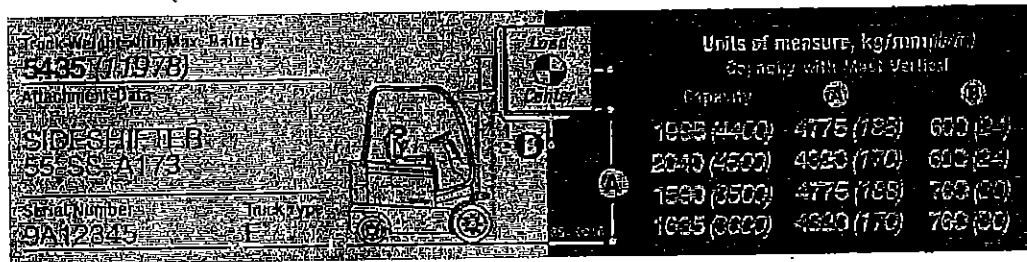
**Depende de Ti**  
**Programa de Capacitación del Operador**

Nombre : Liliana Oñez

Fecha : 9/02/2025

Número Correcto \_\_\_\_\_


1. El equipo que lleva esta placa de capacidad, ¿Qué capacidad de carga tiene a 188 pulgadas/4775 milímetros? ¿Y cuándo la carga está centrada a 30 pulgadas/760 milímetros? (vea la imagen inferior)
- A. 1995 kg or 4400 libras
  - B. 2040 kg or 4500 libras
  - C. 1590 kg or 3500 libras
  - D. 1635 kg or 3600 libras



2. ¿Cuál de las siguientes opciones afecta a la estabilidad de su equipo?
- A. Pendientes y Rampas
  - B. Mástil elevado y cargas
  - C. Inclinación del mástil
  - D. Longitud de la carga transportada
  - E. Peso de la carga
  - F. Aceleración, frenado y giro
  - G. Todas las opciones son correctas
3. La inclinación de la carga hacia adelante cuando el mástil y la carga están elevados en un pasillo abierto:
- A. Hace el equipo gire con más facilidad
  - B. Puede ayudarle a ver mejor
  - C. Puede causar que el equipo vuelque hacia adelante
  - D. Va en contra de la normativa OSHA
  - E. C y D
4. La longitud de la carga elevada no tiene ningún efecto en la estabilidad del equipo.
- A. Verdadero
  - B. Falso


**Depende de Ti**  
Programa de Capacitación del Operador

5. En caso de volcar hacia adelante o caída desde el muelle en equipos de operador a bordo, como los vistos en este programa, debe:



- A. Haberse abrochado el cinturón de seguridad anteriormente
- B. Agarrar el volante con las dos manos
- C. Mantener sus pies firmemente sobre la plataforma
- D. Inclínarse de forma opuesta a la dirección en que vuelca
- E. Todas las opciones son correctas \*

6. En caso de que el equipo vuelque o caiga desde el muelle con un equipo de operador a pie, como el que se muestra aquí, debe bajarse y alejarse del equipo.



- A. Verdadero /
- B. Falso

7. Cuando conduzca alrededor de peatones,

- A. Nunca conduzca cerca de un peatón especialmente si están delante de un objeto fijo.
- B. Nunca permita que un peatón se ponga debajo o cerca de una carga en altura.
- C. Debe saber que los peatones tienen prioridad de paso.
- D. Asegúrese de que el peatón esté cerca de su equipo, incluso de la parte de atrás, dada la amplitud de giro de los equipos.
- E. Comuníquese con el peatón, para que ambos sepan las intenciones de cada uno.
- F. Todas las opciones son correctas \*

**Depende de Ti**  
Programa de Capacitación del Operador

8. Dos equipos idénticos se desplazan por la misma superficie. Un equipo va a 8 millas por hora (MPH), el otro va a 4 millas por hora. El equipo que va a 4 millas por hora será capaz de frenar en aproximadamente:
- A.  $\frac{1}{4}$  de la distancia del equipo que va a 8 MPH
  - B.  $\frac{1}{2}$  de la distancia del equipo que va a 8 MPH
  - C.  $\frac{3}{4}$  de la distancia del equipo que va a 8 MPH
  - D. Tomará la misma distancia detener los ambos equipos
9. Antes de cargar o descargar un camión debe asegurarse de que:
- A. El remolque esté situado correctamente en el muelle
  - B. El borde del muelle esté posicionado de forma segura con el camión
  - C. El bloqueo del remolque esté enganchado y la luz verde está encendida
  - D. Que las ruedas del camión estén bloqueadas
  - E. Que el suelo del remolque esté en buenas condiciones
  - F. Todas las opciones son correctas
10. Cuando conduzca alrededor del muelle debe:
- A. Mantenerse a una distancia considerable del muelle
  - B. Estar atento a los equipos que salen de los remolques marcha atrás
  - C. Estacionar su equipos en la plataforma del muelle
  - D. Manejar cerca de los muelles para evitar tráfico
  - E. A y B
11. Al salir de un camión marcha atrás
- A. Salga del camión lentamente
  - B. Haga sonar su bocina
  - C. Tenga en cuenta otros equipos
  - D. Tenga en cuenta los peatones
  - E. Todas las opciones son correctas
12. El peso y el tamaño de la batería es de poca o ninguna importancia para el funcionamiento seguro del equipo.
- A. Verdadero
  - B. Falso
13. El peso, ácido sulfúrico, descarga eléctrica, hidrógeno son todos los peligros comunes de una batería de plomo ácido industrial.
- A. Verdadero
  - B. Falso

**Depende de Ti**  
**Programa de Capacitación del Operador**

14. Ya que todos los cargadores son similares, cualquier batería puede ser conectada a cualquier cargador.
- A. Verdadero  
 B. Falso
15. Si huele a gas después de montar un tanque de gas propano, debe:
- A. Cerrar la válvula del tanque inmediatamente  
B. Encender el motor para controlar la fuga  
C. Nunca encienda el motor  
D. Informar a su supervisor y señalar el equipo como fuera de servicio  
 E. A,C,D
16. Debe realizar una inspección antes de comenzar su turno:
- A. Al principio de cada turno en el equipo que le asignen.  
B. En cualquier momento antes de utilizar un equipo diferente.  
C. Una vez a la semana exclusivamente en el equipo que le asignen.  
D. No es necesario que inspeccione otros equipos que opere durante su turno.  
 E. A y B
17. Cuáles de estos ítems pueden fallar sin tener que dejar de usar el equipo si se notifica a mantenimiento.
- A. La bocina  
B. Luces estroboscópicas o alarmas (si el equipo las tiene)  
C. Desplazador lateral de las Horquillas  
D. Frenos (mientras que la contra marcha funcione)  
E. Todas las opciones son correctas  
 F. Ninguna de las opciones anteriores
18. Siempre deje distancia de precaución entre equipos cuando esté manejando.
- A. 4  
 B. 3  
C. 2
19. Se permiten pasajeros adicionales en distancias cortas.
- A. Verdadero  
 B. Falso
20. Una parte del cuerpo atrapado contra un objeto fuera del equipo no puede ser seriamente herido cuando viaje a 1 mph.
- A. Verdadero  
 B. Falso